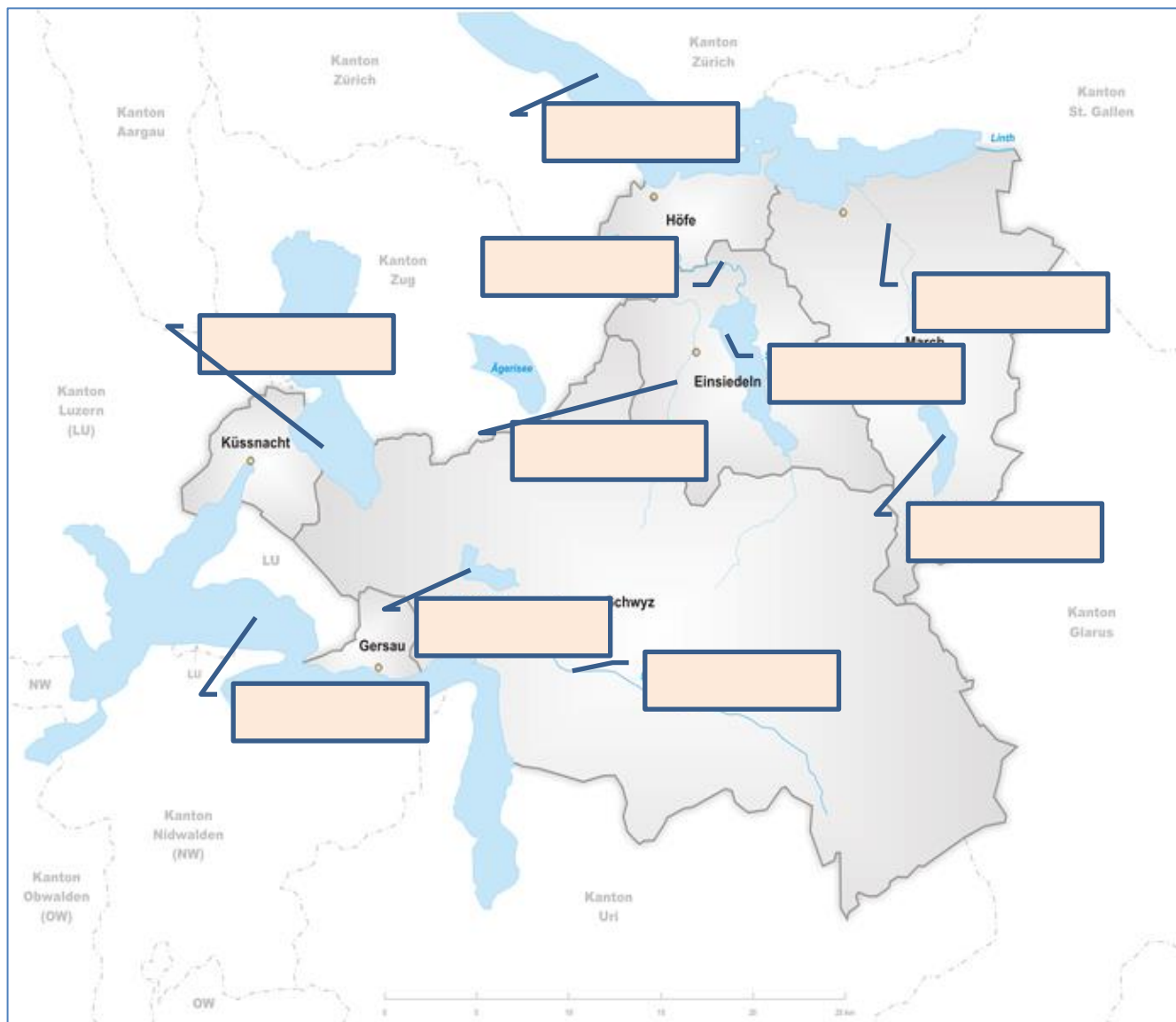


Musterfragen zum Einbürgerungskurs: Kanton Schwyz

Gewässer

Bezeichnen Sie in der Karte alle stehenden und fliessenden Gewässer, indem Sie die zutreffenden Namen in die Kästchen schreiben.



Beschäftigungsstruktur im Kanton Schwyz

Schreiben Sie die 3 Wirtschaftssektoren in das zutreffende Feld.

Auswahl: Dienstleistungssektor / Industrie- und Gewerbesektor / Landwirtschaftssektor

Sektoren	Schweiz	Kanton Schwyz
	ca. 20.2 %	ca. 25.1 %
	ca. 77.4 %	ca. 69.8 %
	ca. 2.3 %	ca. 5.1 %

Verkehrsverbindungen

Welche wichtigen Verkehrsverbindungen führen durch den Kanton Schwyz. Benennen Sie diese.

Strasse:

.....

.....

Schiene:

.....

.....

Geschichte

Welcher Zusammenhang besteht zwischen dem Kanton Schwyz und dem Begriff Marignano? Beschreiben Sie in Stichworten. Nennen Sie auch die wesentliche Jahreszahl.

.....

.....

.....

.....

Geschichte

Welche Beteiligten sind an der Schlacht am Morgarten aufeinander getroffen? In welchem Jahr hat dieses Ereignis stattgefunden.

.....

.....

.....

.....

Geschichte

Kreuzen Sie die zutreffende Antwort an.

Vor der Reformation um 1530 war der Kanton Schwyz:

- katholisch reformiert

Nach der Reformation um 1530 war und ist der Kanton Schwyz bis heute:

- katholisch reformiert

Politik

Kreuzen Sie die zutreffendere Aussage an.

- Gesamthaft gesehen ist die politische Gesinnung im Kanton Schwyz eher konservativ.
 Gesamthaft gesehen ist die politische Gesinnung im Kanton Schwyz sehr progressiv, d. h. fortschrittlich.

Politik

Setzen Sie den zutreffenden Bezirksnamen ein.

Der grösste Bezirk im Kanton Schwyz ist der Bezirk _____.

Der kleinste Bezirk im Kanton Schwyz ist der Bezirk _____.

Wollerau und Pfäffikon sind abwechselnd Hauptort des Bezirks _____.

Lachen ist der Hauptort des Bezirks _____.

Geografie

An welchem See oder an welchen Seen liegt bzw. welche Seen befinden sich auf dem Bezirksgebiet von:

Bezirk	See /Seen
Küssnacht	
Einsiedeln	
Gersau	
Höfe	
Schwyz	
March	

Politische Rechte

Wie auf eidgenössischer Ebene kann auch auf kantonaler Ebene eine Volksinitiative oder ein Referendum ergriffen werden. Wie viele Unterschriften braucht es dazu?

	Schweiz	Kanton Schwyz
Initiative/Volksinitiative	100'000 in 18 Monaten	
Referendum	50'000 in 100 Tagen	

Politische Gremien

Setzen Sie die fehlenden Begriffe und Zahlen ein.

	Schweiz	Kanton Schwyz
Regierung	7 Bundesräte	
Parlament	200 National- und Ständeräte	
oberste/r Leiter/in der Verwaltung	Bundeskanzlerin oder Bundeskanzler	

Politische Gremien

Welche Hauptaufgabe(n) haben die aufgeführten politischen Gremien auch auf Stufe Kanton?

	Hauptaufgaben
Regierungsrat (Exekutive)	
Parlament (Legislative)	
Kantonsgericht (Judikative)	
Staatschreiber bzw. Staatskanzlei	

Politische Gremien

Wie lange dauert eine Amtsdauer eines Regierungsrats oder eines Kantonsrats? Kreuzen Sie an.

- 4 Jahre 2 Jahre 6 Jahre

Politische Gremien

Nach welchem Verfahren werden die 100 Kantonsräte bestimmt? Erläutern Sie in Stichworten.

.....
.....
.....
.....
.....
.....

Politische Gremien

Welches ist die stärkste Fraktion im Kantonsrat? Kreuzen Sie die zutreffende Partei an.

- FDP SP SVP

Politische Gremien

Wie alle Kantone, kann auch der Kanton Schwyz Ständerats- und Nationalratsmitglieder stellen. Wie viele sind es? Schreiben Sie die korrekten Zahlen auf.

Ständerat = _____ Nationalrat = _____

Weshalb sind es jeweils genau diese Anzahl? Erläutern Sie.

Ständerat:
.....
Nationalrat:
.....

Gerichte

Welche Gerichte kennen wir im Kanton Schwyz und womit befassen sie sich zur Hauptsache?

Gericht	Hauptaufgaben

Schule und Ausbildung

Welche Aussagen treffen zu? Kreuzen Sie an.

- Die Primarschule dauert 5 Jahre.
- Die Sekundarstufe 1 dauert 3 Jahre.
- Die Realschule zählt zur Sekundarstufe 2.
- Die Berufslehre zählt zur Sekundarstufe 2.
- Insgesamt dauert die obligatorische Schulzeit bzw. die Volksschule 9 Jahre.
- 1 Jahr Kindergarten ist obligatorisch.
- Ein zweites Kindergartenjahr ist freiwillig.
- Die Maturitätsschule zählt zur Sekundarstufe 1.

Religion und Feiertage

Nennen Sie 2 arbeitsgesetzliche Feiertage, dazu auch das Datum.

.....

.....

Nennen Sie 2 kantonale Feiertage, dazu auch das Datum.



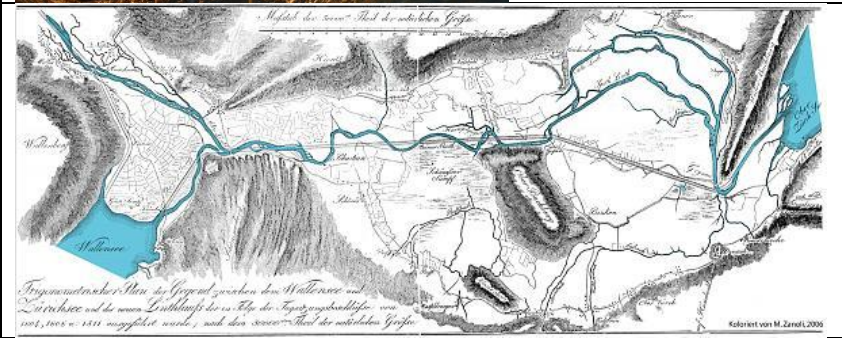

.....

.....

Sehenswürdigkeiten im Kanton Schwyz

Was ist auf den Bildern zu erkennen? Schreiben Sie die zutreffende Antwort ins Feld.

Bild	Bezeichnung
	
	
	
	
	

Bild	Bezeichnung
	
	
 <p><i>„Mittel des 18ten“ Teil der unteren Grosse</i></p> <p><i>Freigewässer des Aare im Gebiet zwischen dem Wallensee und Zürchersee und dem Lauf der in Folge der Trossenarbeiten von 1808, 1809 u. 1811 ausgeführt wurde, nach dem 1808-ten Teil der unteren Grosse</i></p> <p><small>Koloriert von M. Zanolli, 2009</small></p>	
 <p>Reportair 2013</p>	